

ADE

AVALIAÇÃO DESEMPENHO EDUCACIONAL

NOME:

1º ANO:

PROFESSORA:

AVALIANDO A ALFABETIZAÇÃO EM MATEMÁTICA

SECRETARIA MUNICIPAL DE EDUCAÇÃO

RONCADOR, 2017

AVALIAÇÃO DE MATEMÁTICA

QUESTÃO 01

FAÇA UM X NO ANIMAL MAIS ALTO.



A ()



B ()



C ()



D ()

QUESTÃO 02

COMPLETE COM OS NÚMEROS QUE ESTÃO FALTANDO:

1			4	5				9	
11			14	15				19	


QUESTÃO 03

PINTE DE VERDE O URSO MAIOR E DE VERMELHO O MENOR:



QUESTÃO 04

OLHE OS BRINQUEDOS DE DIEGO:



QUANTOS BRINQUEDOS DIEGO TEM?

- A) () TRÊS
- B) () CINCO
- C) () QUATRO
- D) () DOIS

QUESTÃO 05

BIA GANHOU ESTES PRESENTES DE NATAL



9



2

QUANTOS PRESENTES NO TOTAL BIA GANHOU?

- A) () 3
- B) () 7
- C) () 5
- D) () 11

QUESTÃO 06

MARIANA GANHOU 6 BALAS DE SUA TIA:



ELA DEU 2 BALAS PARA SEU PRIMO CARLOS



COM QUANTAS BALAS MARIANA FICOU?

- A) () 4
- B) () 5
- C) () 3
- D) () 2

QUESTÃO 7

MARCOS RECEBEU DE SUA MÃE A QUANTIA ABAIXO PARA COMPRAR DOCES:



MARCOS RECEBEU A QUANTIA DE:

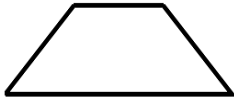
- A) () 2,00 REAIS
- B) () 4,00 REAIS
- C) () 5,00 REAIS
- D) () 3,00 REAIS

QUESTÃO 08

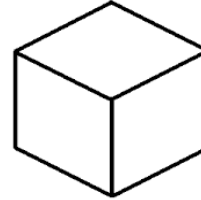
VEJA O CHAPEUZINHO DE ANIVERSÁRIO DE LUCAS:



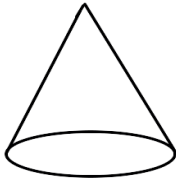
QUAL DAS FIGURAS ABAIXO TEM A MESMA FORMA DO CHAPEUZINHO:



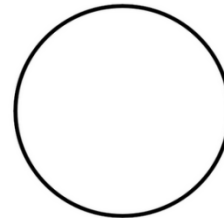
A)



B)



C)



D)

QUESTÃO 09

MARIA TEM NOVE BALÕES:

FAÇA UM X ONDE MOSTRA A QUANTIDADE DE BALÕES QUE MARIA TEM:

A) () NOVE

B) () SEIS

C) () CINCO

D) () QUATRO



QUESTAO 10

OBSERVE OS ANIMAIS QUE MORAM NO ZOOLOGICO:



O TOTAL DE ANIMAIS QUE MORAM NO ZOOLOGICO É?

- A) () 10
- B) () 8
- C) () 16
- D) () 7

BOA SORTE!

